

Входной тест по окружающему миру

на 2020 – 2021 учебный год

2 класс

1. Расставь по порядку. Цифра 1 уже стоит, поставь цифры 2,3,4: ___ Прогулка
___ Подъём 1. Ночной сон ___ Занятия в школе

2. Как называется наша страна?

- а) Россия б) Родина в) Москва

4. Какая птица НЕ улетает в тёплые края?

- а) ласточка б) скворец в) голубь.

5. Укажи лиственное растение?

- а) берёза б) ель в) сосна

6. Кто из животных является диким?

- а) волчонок б) теленок в) жеребёнок

7. Как сейчас называется профессия дяди Степы?

- а) Крановщик б) Полицейский в) Электрик

8. Найди название времени года.

- а) Август б) Листопад в) Лето г) Воскресенье

11. Куда лучше всего вывезти мусор?

- а) На обочину дороги б) На перерабатывающий завод в) В парк

12. Выбери рисунки, которые относятся к живой или неживой природе. Соедини их стрелками с названиями.



Клевер



Дом



Туча

Живая природа



Солнце

Неживая природа



Мышь

13. Наша планета называется _____.

14. Какой знак запрещает движение человека? Подчеркни его.



15*. Запиши, о какой птице идёт речь.

С раннего утра и до позднего вечера слышится в лесу стук этой птицы. Упершись хвостом в ствол дерева, она крепко держится сильными лапами и долбит дерево клювом. Язык у нее длинный и узкий. Им она добывает себе пищу из выдолбленных отверстий: жучков и гусениц.

Ответ: _____

3 класс

Вариант 1

1. Что относится к живой природе?

А – вулкан В – дуб Б – сосулька Г – звезда

2. Что является осадками?

А – дождь В – ветер Б – гололёд Г – метель

3. Кто работает в торговле?

А – продавец В – сталевар Б – врач Г – учитель

4. Что делают из металла?

А – ткань В – книги Б – автомобили Г – мебель

5. Какая техника нужна для строительства дома?

А – бетономешалка В – троллейбус Б – каток Г – поливальная машина

6. По какому телефону надо звонить, если в квартире что-то загорится?

А – 01 В – 09 Б – 02 Г – 03

7. Для чего дети ходят в школу?

А – отдыхать В – получать знания Б – играть Г – общаться с друзьями

8.Какой кусок торта надо взять с блюда?

А – самый красивый В – самый большой Б – самый крайний Г – самый вкусный

9.Какой стороны горизонта не существует?

А – севера В – восхода Б – юга Г – запада

10.Укажи материк, на котором расположена наша страна.

А – Австралия В – Южная Америка Б – Евразия Г – Африка

Количество баллов _____

Отметка _____

Вариант 2

1.Что не относится к явлениям природы?

А – буран В – полив растений Б – гром Г – осадки

2.Какое сезонное природное явление относится к осени?

А – цветение растений В – образование сосулек Б – морозы Г – листопад

3.Кто работает в сельском хозяйстве?

А – конструктор В – доярка Б – актёр Г – товаровед

4.Что делают из глины?

А – бумагу В – кирпич Б – одежду Г – инструменты

5.Какая техника нужна для поднятия грузов на высоту?

А – экскаватор В – самосвал Б – подъёмный кран Г – бульдозер

6.По какому телефону вызывают пожарных?

А – 04 В – 03 Б – 02 Г – 01

7.Чего дети не должны делать?

А – мыть посуду В – делать ремонт Б – пылесосить Г – ходить в магазин

8.Как поступить, если подарок не понравился?

А – отдать назад В – поблагодарить Б – обидеться Г – выбросить

9.Что определяют с помощью компаса?

А – расстояние В – температуру воды Б – стороны горизонта Г – виды осадков

10.Что не относится к водоёмам?

А – река В – бассейн Б – озеро Г – ручей

Количество баллов _____

Отметка _____

Итоговый тест по окружающему миру за 1 полугодие
2020– 2021 учебный год

1 класс

1. Напиши своё имя и фамилию

2. Напиши страну, в которой мы живём

3. Какое время года на картинке?

___ осень ___ лето ___ зима ___ весна



4. Соедини рисунок и надпись.



живая природа

5. Как называется небольшая площадка на дороге, обведённая белой линией? Подчеркни правильный ответ.

а) островок невезения; б) островок безопасности; в) остров сокровищ

6. Первый месяц лета – это

- а) январь
- б) октябрь
- в) ноябрь
- г) июнь

7. Зачеркни лишний рисунок, добавь свой в этот ряд.



8. Какая из перечисленных птиц

является перелётной?

- а) воробей
- б) журавли
- в) сорока
- г) сойка

9. Какой месяц относится к осеннему периоду?

- а) январь
- б) март
- в) ноябрь
- г) июнь

10. Как называется орган человека, который помогает видеть

- а) рот
- б) глаза
- в) нос
- г) уши

11. Какое время года наступает после осени?

- а) лето
- б) осень
- в) весна
- г) зима

12. Что вредно для слуха?

- а) громкая музыка
- б) яркий свет
- в) тихая музыка
- г) зарядка для ушей

13. Изобрази флаг нашей Родины

2 класс

I вариант

1. Выбери правильный ответ. Прибор для определения температуры воздуха называется....

- 1) компас
- 2) глобус
- 3) термометр

2 Год - это...

- 1) день
- 2) время полного оборота Земли вокруг Солнца
- 3) время полного оборота Земли вокруг своей оси

3. Перечисли дни недели по порядку.

Понедельник,

4. День осеннего равноденствия

- 1) 1 сентября
- 2) 23 сентября
- 3) 30 октября

5. Отметь хвойные растения

1. Ель
2. Осина
3. Сосна
4. Можжевельник

6. Отметь части гриба

- 1) Корень
- 2) Ствол
- 3) Шляпка
- 4) Ножка
- 5) Грибница

7. Запиши цифрами порядок осенних месяцев

октябрь

сентябрь

ноябрь

8) Самое знаменитое созвездие

- 1) звезда
- 2) Денеб;
- 3) Большая Медведица;

9) У насекомых ног:

- 1) 6
- 2) 8
- 3) 4

10). Отметь зимующих птиц

- 1) снегирь 5) дятел
- 2) ворона 6) цапля
- 3) грач 7) поползень
- 4) сойка

Контрольный тест по окружающему миру за 1 полугодие 2 класс

II вариант

1. Выбери правильный ответ

Прибор для определения сторон горизонта называется....

- 1) компас
- 2) глобус
- 3) термометр

2Сутки - это...

- 1) день
- 2) время полного оборота Земли вокруг Солнца
- 3) время полного оборота Земли вокруг своей оси

3. Перечисли дни недели по порядку.

Понедельник,

4.Что такое погода? Погода - это...

- 1) сочетание температуры воздуха, облачности, осадков, ветра
- 2) температура воздуха
- 3) снег, дождь, град

5. Отметь хвойные растения

5. Ель
6. Осина
7. Сосна
8. Можжевельник

6. Отметь части гриба

- 1) Корень
- 2) Ствол
- 3) Шляпка
- 4) Ножка
- 5) Грибница

7. Запиши цифрами порядок осенних месяцев

октябрь

сентябрь

ноябрь

8) Самое знаменитое созвездие

- 1) звезда;
- 2) Денеб;
- 3) Большая Медведица;
- 9) Шесть ножек является признаком

- 1) насекомых
- 2) рыб
- 3) птиц
- 4) зверей

10). Отметь зимующих птиц

- 1) снегирь 5)дятел
- 2) ворона 6) цапля
- 3) грач 7)поползень
- 4) сойка

3 класс

1. Отметь естественные тела

- кукла ромашка медведь парта ложка
2. Отметь искусственные тела
карандаш шмель бабочка книга лампа
3. К твердым телам относится

К жидким телам относится

К газам относится

-
4. Какая наука изучает вещества?

ботаника зоология химия

5. Какое вещество содержится в морской воде

Сахар крахмал соль уксус

6. Что такое Солнце?

планета звезда особое небесное тело спутник Земли

7. Какое значение имеет Солнце для всего живого?

-
8. Запиши планеты Солнечной системы:

| | |
|--|--|
| | |
| | |
| | |
| | |

9. Что такое

почва? _____

10. Что входит в состав

почвы? _____

11. Что такое полезные ископаемые? Приведите 3-4 примера

12. Что такое месторождения полезных

ископаемых? _____

13. Какие вещества входят в состав воздуха?

- а) водород, медь, цинк
- б) кислород, азот, углекислый газ
- в) хлор, фтор, йод

- 14.

Какими свойствами обладает воздух?

- а) голубого цвета, проводит звуки, пропускает солнечные лучи, не имеет запаха
- б) прозрачен, бесцветен, без запаха, при нагревании расширяется, а при охлаждении сжимается, плохо проводит тепло

в) с ветром по воздуху проносится пыль, запах зависит о окружающих предметов, при резком изменении границы тепла и холода образуются ветры

4 класс

1. Небесное тело, обращающееся вокруг Солнца:

а) спутник; б) планета; в) метеорит; г) звезда.

2. Центральное место в Солнечной системе занимает:

а) Земля; б) Юпитер; в) Луна; г) Солнце.

3. Планеты Солнечной системы изучают:

а) историки; б) астрономы; в) географы; г) химики.

4. Планета, на которой существует жизнь:

а) Земля; б) Венера; в) Марс; г) Плутон.

5. Природные зоны России расположены так:

а) тундра, арктическая зона, зона лесов;

б) арктическая зона, зона лесов, тундра;

в) арктическая зона, тундра, зона лесов.

6. Вставьте пропущенные названия зон:

а) _____ — это природная зона, в которой растительным покровом являются кустарники, травы, мхи и лишайники;

б) _____ - это природная зона с богатой и разнообразной растительностью; там растут деревья, кустарники, травы, мхи, лишайники;

в) _____ — это природная зона, которая лишена сплошного растительного покрова, встречаются мхи и лишайники.

7. Соедини явление и природную зону, для которой оно характерно

Полярное сияние арктические пустыни

Суховей тундра

Барханы лесная зона

Шторм степи

пустыни

субтропики

8. Рассели животных по природным зонам, соединив стрелкой

КИТ

богомол арктические пустыни

верблюды

лось субтропики

лемминг

кобылка тундра

северный олень

тупик

рысь степи

суслик

дельфин лесная зона

тушканчик

глухарь

тюлень пустыни

9. Соедини главное занятие населения и природную зону

земледелие; оленеводство; рыболовство; охота; овцеводство

арктические пустыни тундра лесная зона степи субтропики пустыни

10. Мой край расположен в природной зоне

а) тундра; б) пустыни; в) степи; г) лесов.

11. На карте природных зон зона степей закрашена ... цветом:

а) розовым; б) зеленым;

в) желтым; г) коричневым.

12. Какой город является столицей нашей области?

а) Москва; б) Санкт-Петербург; в) Ростов-на-Дону; г) Новочеркасск.

13. Мой край даёт стране

а) продукты сельского хозяйства;

б) легковые автомобили;

в) морепродукты.

14. Какие полезные ископаемые есть в Ростовской области?

а) глина, песок, каменный уголь;

б) гранит, нефть, глина;

в) мрамор, торф, песок.

15. Какие из указанных полезных ископаемых используют в качестве топлива

а) железную руду и медный колчедан;

- б) известняк и чёрный гранит;
- в) каменный уголь и природный газ;
- г) серый мрамор и кварцевый песок

16. В Ростовской области протекают реки:

- а) Дон, Донец, Калитва;
- б) Волга, Дон, Ока;
- в) Обь, Енисей, Волга.

17. К естественным водоёмам относятся:

- а) река, озеро, океан, пруд;
- б) река, озеро, море, океан, водохранилище;
- в) река, озеро, море, океан, ручей.

18. В степи по вине человека появились следующие экологические проблемы:

- а) вырубка, загрязнение бытовым мусором, браконьерство, неограниченное заготовление древесины;
- б) загрязнение поверхности нефтью, браконьерство, неограниченный выпас оленей;
- в) распашка земель, неумеренный выпас скота, браконьерство

19. Какие действия человека относятся к охране природы?

- а) добыча полезных ископаемых;
- б) посадка деревьев для укрепления склонов оврагов;
- в) охота на хищных животных;
- г) создание заповедников и заказников.

20. Назови растение - символ степи _____

Итоговый тест по окружающему миру

За 2020 – 2021 учебный год

1 класс

1 вариант

1. Какое время года изображено на картинке ?

Отметь знаком «х».

1) осень

2) зима

3) лето

4) весна



2. Подчеркни, что относится к природе:

горы, стекло, бабочка, ножницы, стул, солнце, слон, камень.

3. Как называется обильное опадание листьев осенью? Подчеркни ответ.

1) осыпание

2) гниение

3) листопад

4) исчезновение

4. Найди картинку, на которой изображен лист берёзы. Отметь знаком «х».



4. Укажи группу, в которой перечислены только хвойные растения.

1) кедр, ель, осина

3) берёза, клён, тополь

2) сосна, ель, лиственница

4) рябина, сосна, ель

5. Какой гриб изображен на картинке? Отметь знаком «х»



1) шампиньон

2) лисичка

3) белый гриб

6. К какой группе относятся животные: ёж, белка, мыш, лось? Отметь знаком «х».

1) рыбы

2) земноводные

3) млекопитающие (звери)

4) птицы

7. К какой группе относятся животные, у которых 6 конечностей? Отметь знаком «х».

- 1) пауки 2) насекомые 3) пресмыкающиеся 4) млекопитающие

8. Соедини стрелками название органа чувств и название чувств:

- | | |
|-------|----------|
| Глаза | слух |
| Язык | зрение |
| Уши | вкус |
| Нос | осязание |
| Кожа | обоняние |

9. Какой знак обозначает наземный пешеходный переход? Обведи.



10. Продолжи предложения.



Я живу в стране _____.

Её столица – город _____.

11. Как называется глава государства в России? Подчеркни.

- а) царь б) президент в) король

12. Найди государственный флаг нашей России и раскрась его.



2 вариант

1. К какому времени года относится эта картинка ?

Отметь знаком «х».

- 1) осень 2) зима 3) лето 4) весна



2. Подчеркни, что не относится к природе:

горы, стекло, бабочка, ножницы, стул, солнце, слон, камень.

3. Что не относится к явлениям природы? Подчеркни ответ.

- 1) снег 2) дождь 3) загрязнение воздуха 4) оттепель

4. Найди картинку, на которой изображен лист рябины. Отметь знаком «х».



5. Укажи группу, в которой перечислены только лиственные растения.

- 1) кедр, ель, осина 3) берёза, клён, тополь
2) сосна, ель, лиственница 4) рябина, сосна, ель

6. Какой гриб изображен на картинке? Отметь знаком «х»



1) мухомор

2) лисичка

3) опёнок

6. К какой группе относятся животные: журавль, иволга, пингвин? Отметь знаком «х».

- 1) рыбы 2) земноводные 3) млекопитающие (звери) 4) птицы

7. К какой группе относятся животные, у которых 8 конечностей? Отметь знаком «х».

- 1) пауки 2) пресмыкающиеся 3) насекомые 4) млекопитающие

8. Соедини стрелками название органа чувств и название чувств:

| | |
|-------|----------|
| Глаза | слух |
| Уши | зрение |
| Язык | обоняние |
| Нос | осязание |
| Кожа | вкус |

9. Какой знак обозначает подземный пешеходный переход? Обведи.






10. Продолжи предложения:

Наше государство называется _____ .

Его столица - город _____ .

11. Какие государственные символы России ты знаешь? Напиши.

12. Найди государственный флаг России и раскрась его.



2 класс

. В чём различие животных и растений?

2. Перечисли группы животных, которые ты знаешь: _____

3. Напиши отличительные признаки насекомых: _____

4. Напиши названия 3-5 насекомых: _____

5. На какие группы делятся насекомые по способу питания?

5. Напиши отличительные признаки **рыб**: _____

6. Напиши названия 3-5 рыб: _____

7. На какие группы делятся рыбы по способу питания?

8. Напиши отличительные признаки **земноводных** _____

9. Напиши названия 3-5 земноводных _____

10. На какие группы делятся земноводные по способу питания?

11. Напиши отличительные признаки **пресмыкающихся** _____

12. Напиши названия 3-5 пресмыкающихся: _____

13. На какие группы делятся пресмыкающиеся по способу питания?

14. Напиши отличительные признаки **птиц**: _____

15. Напиши названия 3-5
птиц: _____

16. На какие группы делятся птицы по способу питания?

_____ 17. Напиши отличительные
признаки **зверей**: _____

18. Напиши названия 3-5 зверей: _____

19. На какие группы делятся звери по способу питания?

20. Что человек делает, чтобы не заболеть?

21. Напиши, какие продукты питания являются для тебя самыми полезными?

22. Напиши, какие продукты питания тебе не стоит употреблять, чтобы сохранить свое здоровье?

23. Какие правила безопасного поведения дома ты знаешь?

24. Какие правила безопасного поведения на улице и во дворе ты знаешь?

25. Столица

России:

26. Как называется Основной закон

России?

27. Перечисли государственные символы:

28. Какие народные промыслы России ты знаешь?

3 класс

1 вариант.

1. Как называется модель земного шара?

А) глобус; Б) экватор; В) меридиан.

2. На каком материке находится Россия?

А) Антарктида; Б) Африка В) Евразия

3. Укажи, что из перечисленного - тела, а что - вещества.

Машина

Железо

Сахар

Тела

Проволока

Вещества

Углекислый газ

Воздушный шар

Лёд

Вода

4. Укажи температуру перехода воды из жидкого в газообразное состояние.

а) при $+50^{\circ}$ б) при 0° в) при $+100^{\circ}$

5. Что такое воздух?

а) смесь газов, состоит он из азота, кислорода и углекислого газа

б) вещество, которое состоит из кислорода, воды, облаков, пыли, туч, углекислого газа.

6. Какой газ из воздуха мы поглощаем при дыхании?

а) углекислый газ.

б) кислород.

в) азот.

7. Почему растение не замерзает под снегом?

а) воздух хорошо проводит тепло.

б) воздух плохо проводит тепло.

8. Как называется движение воздуха вдоль земной поверхности?

А) ветер; Б) атмосфера; В) погода.

9. Прибор для определения направления ветра, называется...

А) термометр; Б) флюгер; В) анемометр.

10. Какое из полезных ископаемых самое прочное?

а) глина б) гранит в) торф

11. Из какого полезного ископаемого делают посуду?

а) из нефти б) из торфа в) из глины

12. Из какого полезного ископаемого изготавливают стекло?

а) из глины б) из песка в) из известняка

13. Лес называют природным сообществом, потому что...

а) в лесу рядом друг с другом растут разнообразные растения;

б) все обитатели леса живут совместно, тесно связаны между собой;

в) весь лес – от верхушек деревьев до земли – заселён животными.

14. В лесу растения образуют ярусы:

а) верхний – мхи и лишайники, средний – деревья, нижний – кустарники;

б) верхний – деревья, средний – кустарники, нижний – травы, мхи и лишайники;

в) верхний – деревья, средний – травянистые растения, нижний – кустарники.

15. Растениями луга являются...

а) ландыш, осока, ягель;

б) тимофеевка, клевер, нивяник;

в) черника, пион, типчак.

16. Растения водоёма это...

а) тимофеевка, пастушья сумка, нивяник;

б) брусника, черника, мох;

в) кувшинка, ряска, тростник.

17. Какое растение превращается в торф?

а) ряска; б) стрелолист; в) мох сфагнум.

18. Какие болотные растения являются хищниками?

а) тростник; б) росянка; в) рогоз.

19. Надо ли охранять болота?

а) Нет. Болото – это губительное место для человека и животных.

б) Да. Болото – природное водохранилище чистой пресной воды.

20. Выбери верную цепь питания.

а) пшеница – орёл – змея – мышь

б) орёл – мышь – пшеница – змея

в) пшеница – мышь – змея – орёл

21. Этот город назван в честь святого Сергия Радонежского.

а) Ростов б) Ярославль в) Сергиев Посад

22. Город, который знаменит торговыми рядами.

а) Ростов б) Владимир в) Кострома

23. Город, в котором есть Троице-Сергиева лавра.

а) Ярославль б) Переславль-Залесский в) Сергиев Посад

24. Живопись, основанная на применении водяных красок, наносимых на сырую штукатурку.

а) лавра б) фреска в) шатёр

25. Город, основанный Юрием Долгоруким.

а) Переславль-Залесский б) Сергиев Посад в) Владимир

2 вариант

1. Как называются круговые линии на глобусе, которые соединяют Северный полюс и Южный полюс?

А) меридианы; Б) параллели; В) экватор.

2. Какой материк самый большой?

А) Австралия; Б) Евразия; В) Северная Америка

4. Какой материк омывается Южным океаном?

А) Евразия; Б) Австралия; В) Антарктида

5. С помощью какого прибора определяются стороны горизонта - это _____

6. Отметь знаком «+» в нужной графе, какие из перечисленных тел относятся к твёрдым, жидким, газообразным.

| Тела | Твёрдые | Жидкие | Газообразные |
|------------|---------|--------|--------------|
| Камень | | | |
| Капля воды | | | |

| | | | |
|-----------------|--|--|--|
| Пузырёк воздуха | | | |
| Капля молока | | | |
| Пар | | | |
| Проволока | | | |
| Кусок сахара | | | |

7. Обведи верное утверждения. Водяной пар:

- а) прозрачный бесцветный газ с запахом;
- б) прозрачный бесцветный газ без запаха.

8. Какой газ из воздуха мы выдыхаем при дыхании?

- а) углекислый газ.
- б) кислород.
- в) азот.

9. Прибор для определения силы ветра, называется...

А) термометр; Б) флюгер; В) анемометр.

10. Как называется очень сильный ветер?

А) умеренный; Б) бриз; В) ураган.

11. В шахтах добывают:

а) каменный уголь б) песок в) нефть

12. Какое из полезных ископаемых не обладает горючестью?

а) торф б) железная руда в) уголь

13. Какое из полезных ископаемых не используют в строительстве?

а) торф б) гранит в) известняк

14. Луг называют природным сообществом, потому что...

- а) на лугу рядом друг с другом растут разнообразные растения;
- б) все обитатели луга живут совместно, тесно связаны между собой;
- в) весь луг заселён животными.

15. В лесной подстилке живут ...

- а) бактерии, насекомые и их личинки;
- б) ежи, кроты, землеройки;
- в) божьи коровки, жуки-короеды, лесные мыши.

16. На лугу живут ...

- а) трясогузки, шмели, кобылки;
- б) шмели, совы, глухари;
- в) лебеди, рябчики, шелкопряды.

17. Растения водоёма это...

- а) тимофеевка, пастушья сумка, нивяник;
- б) брусника, черника, мох;
- в) кувшинка, ряска, тростник.

18. Какое растение водоема занесено в Красную книгу?

- а) ряска; б) кувшинка; в) стрелолист.

19. Какое слово пропущено: икринка - ... - взрослая рыба?

- а) личинка б) малёк в) головастик

20. Что откладывают самки ящериц, черепах, ужей, змей?

- а) икринки б) яйца

21. Город, в котором Пётр I построил первую в России флотилию.

- а) Ростов б) Кострома в) Переславль-Залесский

22. Город, в котором есть Золотые ворота.

- а) Владимир б) Ярославль в) Ростов

23. Город, основанный Владимиром Мономахом.

- а) Кострома б) Ростов в) Владимир

24. Город, основанный Ярославом Мудрым.

- а) Суздаль б) Ярославль в) Кострома

25. Кто такой Андрей Рублёв?

- а) знаменитый монах
- б) кораблестроитель
- в) гениальный иконописец

4 класс

1. В какой природной зоне находится наш край?

2. В каком году основана Иркутская область?

3. Какой город считают городом побратимом г. Братска?

4. Какие города Иркутской области ты знаешь?

5. Какие водоемы нашего края ты знаешь?

реки: _____

озера: _____

6. Какие растения растут в нашем крае?

деревья: _____

кусты: _____

цветы: _____

ягоды: _____

7. Какие животные встречаются в нашем крае?

звери: _____

птицы: _____

рыбы: _____

насекомые: _____

8. Составь цепь питания лесной зоны:

9. Какие растения и животные Иркутской области занесены в Красную книгу России? _____

10. Какие заповедники нашего края ты знаешь?

11.Какие полезные ископаемые есть в Иркутской области?

12.Какие ты знаешь народные промыслы своего края?

13.Напиши экологические проблемы нашего края.

14.Составь памятку по охране природы родного края.

Памятка

1. _____

2. _____

3. _____

4. _____

5. _____

6. _____